



भाग क: वाचन (एकूण 50 गुण)

प्रश्न 1: दिलेल्या शब्दातील 'र' व 'म' या अक्षरांना गोल करा.






1 X 6 = 6

- 1) र - दर कलाकरि रमा  
2) म - ममोरंजन गरम सोमनाथ

प्रत्येक बरोबर  
उत्तरास 1 गुण  
द्यावा

प्रश्न 2: शब्द व चित्र यांच्या रेषा ओढून जोड्या लावा.

1 X 5 = 5


क.	डास	
ख	शेळी	
ग.	स्वयंपाकघर	
घ.	सरडा	
च.	दोरी	

प्रत्येक बरोबर उत्तरास 1 गुण देण्यात यावा.

प्रश्न 3: चित्रात दिसणाऱ्या चार वस्तूंच्या नावाला गोल (O) करा.

2X4 =8

(वर्तमानपत्र) पत्रपेटी ट्रक्टर बस चप्पल पाणी



प्रत्येक बरोबर उत्तरास 2 गुण देण्यात यावे

प्रश्न 4: वाक्यांशाच्या दोन योग्य भागांना रेषेने जोडा.

2 X 5 = 10

	गट-अ	गट-ब
क	उन्हाळ्यात	अनोळखी व्यक्तींकडे देऊ नका
ख	सिंचनामुळे	कचराकुंडीतच टाका.
ग	क्रेडीट कार्ड	सुती व सैल कपडे वापरावेत.
घ	वर्तमानपत्र वाचनामुळे	भरघोस पीक येते.
च	कचरा	माहिती मिळते .

प्रत्येक बरोबर उत्तरास 2 गुण देण्यात यावे

प्रश्न 5: खाली दिलेले चित्र पाहून योग्य वाक्यांसमोर (✓) व अयोग्य वाक्यांसमोर (×) अशी खूण करा. 3×3= 9



- 1) स्वच्छता पंधरवाडा 01 ते 15 सप्टेंबर या दरम्यान आहे. ( ✓ )
- 2) चला नेहमी स्वच्छता राखण्याचा संकल्प करूया. ( ✓ )
- 3) नेहमी स्वच्छतेला सुरुवात इतरांपासून करावी. ( X )

प्रत्येक बरोबर उत्तरास 3 गुण देण्यात यावे

प्रश्न 6: पुढील उतारा वाचा व दिलेल्या योग्य वाक्यांसमोर (✓) व किंवा अयोग्य वाक्यांसमोर (×) अशी खूण करा. 2 × 6 = 12

काल आमच्या कारखान्यात अपघात झाला. एका कामगाराच्या डोक्यावर कारखान्यातील एका यंत्राचा भाग निखळून पडला. त्याने हेल्मेट घातले असल्यामुळे त्यांचा जीव वाचला. मी सुद्धा नेहमी हेल्मेट घालून कामावर जातो. आम्ही नेहमी कामाच्या ठिकाणी सुरक्षिततेकडे लक्ष देतो. यंत्रे चालवण्याची योग्य पद्धत जाणून घेतल्यावरच ती चालवली जावीत.

- 1) हेल्मेट घातल्यामुळे हा अपघात झाला. ( X )
- 2) कामाच्या ठिकाणी सुरक्षिततेची काळजी घेणे महत्त्वाचे आहे. ( ✓ )
- 3) कामगाराने हेल्मेट घातले होते. ( ✓ )
- 4) यंत्रे चालवण्याची योग्य पद्धत जाणून घेतल्यावरच ती चालवावी. ( ✓ )
- 5) हेल्मेटमुळे कारागिराचे प्राण वाचले. ( ✓ )
- 6) सर्व कारखान्यामध्ये काम करणे धोकादायक आहे. ( X )

**प्रत्येक बरोबर उत्तरास 2 गुण देण्यात यावे**

भाग ख: लेखन (एकूण 50 गुण)

प्रश्न 1: खाली दिलेल्या अक्षरांपासून एक-एक शब्द तयार करून लिहा.

2X3=6

1) ड - .....

2) च - .....

3) झ - .....

दिलेले अक्षर वापरून तयार केलेला  
कोणताही अर्थपूर्ण शब्द बरोबर देण्यात  
यावा.

प्रत्येक बरोबर उत्तरास 2 गुण देण्यात यावे.

प्रश्न 2: चित्र पाहून त्याचे नाव लिहा.

2X5=10



टोमॅटो



इस्त्री



पाय



फूल



चिमणी

प्रत्येक बरोबर उत्तरास 2 गुण देण्यात यावे.

प्रश्न 3: खालील शब्दातील योग्य शब्द निवडून वाक्य पूर्ण करा.

2X4=8

(कचरा पीक स्वच्छ मुदतीत)

- 1) अन्न..... **स्वच्छ**.....ठिकाणी ठेवा.
- 2) रेल्वेस्थानक, बसस्थानक व रस्त्यावर कधीही ..... **कचरा**..... फेकू नका.
- 3) जर तुम्ही क्रेडीट कार्डवरून काही कर्ज घेतले असेल तर ते ..... **मुदतीत**.... फेडणे आवश्यक आहे.
- 4) यावर्षी आपल्या शेतात खूप चांगले ... **पीक** ...आले आहे.

**प्रत्येक बरोबर उत्तरास 2 गुण देण्यात यावे .**

प्रश्न 4: दिलेल्या शब्दांपासून वाक्य तयार करा.

3X3=9

- 1) शोण – -----
  - 2) औषध – -----
  - 3) झोपाळा – -----
- दिलेला शब्द वापरून तयार  
केलेले कोणतेही अर्थपूर्ण  
वाक्य बरोबर द्यावे

**प्रत्येक बरोबर उत्तरास 3 गुण देण्यात यावे .**

प्रश्न 5: आग लागल्यानंतर कोणती काळजी घेतली पाहिजे ते लिहा.


1X2=2

- 1) .....
  - 2) .....
- सूचनेप्रमाणे लिहिलेले योग्य ते  
उत्तर बरोबर द्यावे.

**प्रत्येक बरोबर उत्तरास 1 गुण देण्यात यावा.**

प्रश्न 6: खालील चित्र पाहून पाच वाक्ये लिहा.

3X5=15



क) -----

ख) -----

चित्रात दिसणाऱ्या प्रसंगावर आधारित  
पाच अर्थपूर्ण वाक्ये बरोबर द्यावीत.  
बोलीभाषेचा स्वीकार करावा.

ग) -----

घ) -----

ड) -----







**प्रत्येक बरोबर उत्तरास 3 गुण देण्यात यावे.**



भाग ग: गणित (संख्याज्ञान) एकूण 50 गुण

प्रश्न 1: चित्रे आणि संख्या यांच्या जोड्या जुळवा.

1X6=6

	13
	20
	2
	6
	4
	9

प्रत्येक बरोबर उत्तरास 1 गुण देण्यात यावा.

प्रश्न 2: क्रम पूर्ण करा.







1X 5=5

20	<u>40</u>	60	80
16	15	<u>14</u>	13
25	<u>30</u>	35	40
20	30	<u>40</u>	50
<u>22</u>	24	26	28

प्रत्येक बरोबर उत्तरास 1 गुण देण्यात यावा.

प्रश्न 3: खाली दिलेल्या सामानाची खरेदी करण्यासाठी आपण किती रुपये घाल ? वस्तू व रकमेची जोडी लावा .

1 X 3=3

(क)	 ₹150	
(ख)	 ₹ 110	
(ग)	 ₹ 55	

प्रत्येक बरोबर उत्तरास 1 गुण देण्यात यावा.

प्रश्न 4: उदाहरणे सोडवा.

2X 4=8

1) $\begin{array}{r} 22 \\ +53 \\ \hline 75 \end{array}$	ख) $\begin{array}{r} 64 \\ -31 \\ \hline 33 \end{array}$	ग) $\begin{array}{r} 21 \\ \times 5 \\ \hline 105 \end{array}$	घ) $\begin{array}{r} 12 \\ 4 \overline{)48} \\ -4 \\ \hline 08 \\ -8 \\ \hline 0 \end{array}$
--	--	--	---

प्रत्येक बरोबर उत्तरास 2 गुण देण्यात यावे.

प्रश्न 5: सोडवा

अ) राणीजवळ 500 रु.च्या 2 व 50 रु.च्या 3 नोटा आहेत तर तिच्या जवळ एकूण किती रुपये आहेत?  $4 \times 1 = 4$

$$\begin{array}{r} 500 \\ + 500 \\ + 50 \\ + 50 \\ + 50 \\ \hline 1150 \end{array}$$

राणीजवळ एकूण 1150 रुपये आहेत.

प्रत्येक बरोबर उत्तरास 4 गुण देण्यात यावे.

ब) पवनने 45 आंबे 15 जणांमध्ये समान वाटले तर प्रत्येकाला किती आंबे मिळतील?  $4 \times 1 = 4$

$$\begin{array}{r} 3 \\ 15 \overline{)45} \\ -45 \\ \hline 00 \end{array}$$

प्रत्येकाला 3 आंबे मिळतील.

प्रत्येक बरोबर उत्तरास 4 गुण देण्यात यावे.

प्रश्न 6: रिकाम्या जागा भरा.

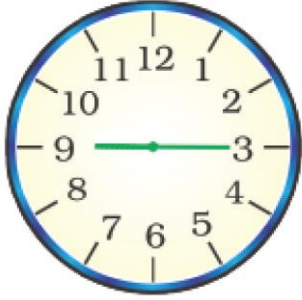
2X4=8

- 1) 2000 मीटर = **2** किलोमीटर.
- 2) 3 लीटर = **3000** मिलीलीटर.
- 3) 4 डझन संत्रे = **48** संत्रे.
- 4) 500 ग्रॅम = **अर्धा** किलोग्रॅम.

प्रत्येक बरोबर उत्तरास 2 गुण देण्यात यावे

प्रश्न 7: दिलेल्या घड्याळातील वेळ पाहून लिहा.

4x2=8



.....**9**.....वाजून .....**15**.....मिनिटे

**19:35**

.....**7**.....वाजून .....**35**..... मिनिटे

किंवा

**19** वाजून **35** मिनिटे

प्रत्येक बरोबर उत्तरास 4 गुण देण्यात यावे

प्रश्न 8: दिनदर्शिका पाहून उत्तरे लिहा.

1X4=4

नोव्हेंबर 2023					
रविवार		5	12	19	26
सोमवार		6	13	20	27
मंगळवार		7	14	21	28
बुधवार	1	8	15	22	29
गुरुवार	2	9	16	23	30
शुक्रवार	3	10	17	24	
शनिवार	4	11	18	25	

अ.) नोव्हेंबर महिन्यात एकूण किती शनिवार आहेत?

- 4 किंवा चार

ब) नोव्हेंबर महिन्यात एकूण किती दिवस आहेत?

- 30 किंवा तीस

क) 30 नोव्हेंबरला कोणता वार आहे?

- गुरुवार

ड) पहिल्या सोमवारी कोणती तारीख आहे?

- 6 किंवा सहा

प्रत्येक बरोबर उत्तरास 1 गुण देण्यात यावा.

सुगाव चाचणी अहमपत्रिका 1